


Chapitre 10 : Suites

Suites explicites

 **Exercice 1 :** Étudier la monotonie des suites définies par

$$1. \forall n \in \mathbb{N}, u_n = \left(\sum_{k=0}^n \frac{1}{2^k} \right) - n$$

$$2. \forall n \in \mathbb{N}, u_n = \frac{n!}{2^{n+1}}$$

$$3. \forall n \in \mathbb{N}^*, u_n = \frac{\ln(n)}{n}$$

$$4. \forall n \in \mathbb{N}, u_n = \sum_{k=0}^{2n} \frac{(-1)^k}{k+1}$$

$$5. \forall n \in \mathbb{N}, u_n = n + 2(-1)^n$$

$$6. \forall n \in \mathbb{N}, u_n = \sum_{k=2}^n \frac{1}{k \ln(k)}$$

$$7. \forall n \in \mathbb{N}, u_n = \frac{5^n}{n!}$$

 **Exercice 2 :** Déterminer un équivalent simple et la limite des suites suivantes :

$$1. u_n = n \sqrt{\ln \left(1 + \frac{1}{n^2 + 1} \right)}$$

$$2. v_n = \left(1 + \sin \left(\frac{1}{n} \right) \right)^n$$

$$3. w_n = \frac{n \ln \left(1 + \frac{1}{n^3} \right)}{1 - \cos \left(\frac{1}{n} \right)}$$

$$4. p_n = \sqrt{n+2} - \sqrt{n+1}$$

$$5. s_n = \sqrt{1 + \frac{1}{\ln(n+1)}} - 1$$

 **Exercice 3 :** Étudier le comportement en $+\infty$ des suites suivantes :

$$1. u_n = \frac{n}{\cos \left(\frac{1}{n} \right)}$$

$$2. u_n = \sqrt{n+1} - \sqrt{n}$$

$$3. u_n = \ln(n+1) - \ln(n^2)$$

$$4. u_n = \left(1 + \frac{2}{n} \right)^n$$

$$5. u_n = \frac{2^n + n}{2^n}$$

$$6. u_n = \frac{n + (-1)^n}{n - \ln(n^3)}$$

$$7. u_n = \frac{1}{n^2} \sum_{k=1}^n k$$

$$8. v_n = \frac{3^n - 4^n}{3^n + 4^n}$$

$$9. v_n = \frac{\sin n}{n}$$

$$10. v_n = \frac{1 + (-1)^n}{n}$$

$$11. v_n = n^2 - n \cos n + 2$$

$$12. v_n = n^2 \left(\frac{1}{2} \right)^n \sin(n!)$$

$$13. v_n = \frac{n! + (n+1)!}{(n+2)!}$$

$$14. u_n = \frac{1}{n^3} \sum_{k=1}^n k^2$$

$$15. t_n = \ln(2^n + n)$$

$$16. t_n = \ln(2^n - n)$$

$$17. t_n = n^{\frac{1}{n}}$$

$$18. t_n = (\ln n)^n$$


$$19. t_n = \frac{n^3 + 2^n}{3^n}$$

$$20. t_n = (a^n + b^n)^{\frac{1}{n}}, \text{ où } a > 0 \text{ et } b > 0$$

$$21. t_n = (n^2 + n + 1)^{\frac{1}{n}}$$


$$22. t_n = \frac{1}{a^n} \sum_{k=1}^n b^k, \text{ où } a > 0 \text{ et } b > 0$$

Suites définies par des sommes ou des produits


 **Exercice 4 :** Étude d'une suite définie par une somme.

$$1. \text{ Montrer que pour tout entier } n \geq 1, \text{ on a : } 2 \left(\sqrt{n+1} - \sqrt{n} \right) \leq \frac{1}{\sqrt{n}} \leq 2 \left(\sqrt{n} - \sqrt{n-1} \right).$$

2. En déduire les limites quand n tend vers $+\infty$ des deux suites (u) et (v) dont les termes généraux respectifs sont, pour tout $n \in \mathbb{N}^*$, $u_n = \sum_{k=1}^n \frac{1}{\sqrt{k}}$ et $v_n = \frac{u_n}{\sqrt{n}}$.

 **Exercice 5 :** En vous aidant du théorème des gendarmes ou du théorème de comparaison, étudier la convergence des suites suivantes :

1. $\forall n \in \mathbb{N}^*, u_n = \sum_{k=1}^n \frac{1}{n^2 + k}$.
2. $\forall n \in \mathbb{N}^*, u_n = \sum_{k=1}^n \frac{1}{\sqrt{n^2 + k}}$.
3. $\forall n \in \mathbb{N}^*, u_n = \sum_{k=1}^n \frac{n}{n^2 + k}$.
4. $\forall n \in \mathbb{N}^*, u_n = \sum_{k=1}^n \frac{k}{n + k}$.

 **Exercice 6 :** On définit les suites $(u_n)_{n \in \mathbb{N}^*}$ et $(v_n)_{n \in \mathbb{N}^*}$ par


$$\forall n \in \mathbb{N}^*, u_n = \sum_{k=1}^n \frac{1}{k} \text{ et } v_n = u_n - \ln(n).$$

1. On pose, pour tout $x > 0$,

$$\varphi(x) = \frac{1}{x} + \ln(x) - \ln(1+x) \text{ et } \Psi(x) = \frac{1}{x+1} + \ln(x) - \ln(1+x).$$

En étudiant ces fonctions, montrer que, pour tout $k \in \mathbb{N}^*$, on a : $\frac{1}{k+1} \leq \ln(k+1) - \ln(k) \leq \frac{1}{k}$.

2. En déduire que, pour tout $n \in \mathbb{N}^*$, $u_n \geq \ln(1+n)$ puis en déduire le comportement de la suite (u) en l'infini.
3. Montrer que la suite $(v_n)_{n \in \mathbb{N}^*}$ converge vers une limite finie.
On appelle la constante d'Euler cette limite que l'on note γ .

 **Exercice 7 :** On définit la suite $(S_n)_{n \in \mathbb{N}^*}$ par : $\forall n \in \mathbb{N}^*, S_n = \sum_{k=1}^n \frac{(-1)^k}{k}$.

1. Montrer que les suites $(S_{2n})_{n \in \mathbb{N}^*}$ et $(S_{2n+1})_{n \in \mathbb{N}}$ sont adjacentes.
2. En déduire que $(S_n)_{n \in \mathbb{N}^*}$ est convergente.


 **Exercice 8 :**

1. Montrer que : $\forall k \geq 2, \frac{1}{k(k-1)} = \frac{1}{k-1} - \frac{1}{k}$.

2. On considère la suite définie sur \mathbb{N}^* de terme général $v_n = 1 + \sum_{k=2}^n \frac{1}{(k-1)k}$. Montrer qu'elle est convergente et calculer sa limite.

3. En déduire que la suite définie sur \mathbb{N}^* de terme général $u_n = \sum_{k=1}^n \frac{1}{k^2}$ converge (on pourra montrer qu'elle est croissante et majorée).

Suites définies par récurrence


 **Exercice 9 :** Déterminer le terme général, étudier la convergence, et calculer la somme des termes $S = \sum_{k=0}^n u_k$ pour les suites (u) définies par $u_0 = 2$ et pour tout $n \in \mathbb{N}$:

- | | | |
|----------------------------------|------------------------------|---|
| 1. $u_{n+1} = u_n + 3$ | 4. $u_{n+1} = 3u_n$ | 7. $u_{n+1} = 3u_n + 3$ |
| 2. $u_{n+1} = u_n + \frac{1}{2}$ | 5. $u_{n+1} = \frac{u_n}{2}$ | 8. $u_{n+1} = -\frac{u_n}{2} + \frac{1}{3}$ |
| 3. $u_{n+1} = u_n - 5$ | 6. $u_{n+1} = -5u_n$ | 9. $u_{n+1} = -u_n - 4$ |

 **Exercice 10 :** On considère les suites (u) et (v) définies par

$$u_0 = 0 \text{ et } \forall n \in \mathbb{N}, u_{n+1} = \frac{5u_n - 2}{u_n + 2} \text{ et } \forall n \in \mathbb{N}, v_n = \frac{u_n - 2}{u_n - 1}.$$

1. Montrer que la suite (u) est bien définie et que pour tout $n \geq 3$, $u_n > 1$.
2. En déduire que la suite (v) est bien définie sur \mathbb{N} .
3. Montrer que (v) est géométrique.
4. En déduire l'expression explicite de (v) puis de (u) .
5. Etudier la convergence de la suite (v) .

 **Exercice 11** : On considère les suites (u) et (v) définies par


$$u_0 = 0 \text{ et } \forall n \in \mathbb{N}, u_{n+1} = \frac{5u_n - 2}{u_n + 2} \quad \text{et} \quad \forall n \in \mathbb{N}, v_n = \frac{u_n - 2}{u_n - 1}.$$

1. Montrer que la suite (u) est bien définie et que pour tout $n \geq 3$, $u_n > 1$.
2. En déduire que la suite (v) est bien définie sur \mathbb{N} .
3. Montrer que (v) est géométrique.
4. En déduire l'expression explicite de (v) puis de (u) .
5. Etudier la convergence de la suite (u) .

 **Exercice 12** :

Déterminer en fonction de n , le terme général u_n des suites qui vérifient

1. $u_0 = 1, u_1 = 2, \forall n \in \mathbb{N}^*, u_{n+1} = 2u_n + 3u_{n-1}$.
2. $u_0 = 1, u_1 = 0, \forall n \in \mathbb{N}, u_{n+2} = 4u_{n+1} - 4u_n$.
3. $u_0 = 1, u_1 = 1, \forall n \in \mathbb{N}, u_{n+2} = u_{n+1} - u_n$.
4. $u_0 = 0, u_1 = 1, \forall n \in \mathbb{N}, u_{n+2} - 2u_{n+1} + 5u_n = 0$.
5. $u_0 = 2, u_1 = -3, \forall n \in \mathbb{N}, u_{n+2} = -8u_{n+1} - 16u_n$.
6. $u_1 = 1, u_2 = 1, \forall n \geq 3, u_n = u_{n-1} + u_{n-2}$.
7. $u_0 = 1, u_1 = 2, \forall n \in \mathbb{N}, u_{n+2} = -4u_n$.

 **Exercice 13** : Conjecturer le terme général des suites définies par les relations de récurrence suivantes.

1. $u_0 \in \mathbb{R}$ et $\forall n \in \mathbb{N}, u_{n+1} = u_n^2$
2. $u_1 = 1$ et $\forall n \in \mathbb{N}^*, u_{n+1} = \frac{3(n+1)}{2n} u_n$
3. $u_0 = 2$ et $\forall n \in \mathbb{N}, u_{n+1} = 2u_n^3$
4. $u_0 \in \mathbb{R}$ et $\forall n \in \mathbb{N}, u_{n+1} = u_n + n^2$
5. $u_0 \in \mathbb{R}$ et $\forall n \in \mathbb{N}, u_{n+1} = u_n + 2^n$
6. $u_0 \in \mathbb{R}$ et $\forall n \in \mathbb{N}, u_{n+1} = 2^n u_n$

 **Exercice 14** :

Soit une suite (u) qui vérifie la relation de récurrence

$$\begin{cases} u_0 \in \mathbb{R} \\ \forall n \in \mathbb{N}, u_{n+1} = -u_n^2 + 2u_n \end{cases}$$

1. Calculer $1 - u_{n+1}$ en fonction de $1 - u_n$.
2. Déterminer la limite de la suite (u) , si elle existe, en fonction du premier terme u_0 .



Exercice 15 : On définit la suite (u) par $\begin{cases} u_0 \in \mathbb{R} \\ u_{n+1} = \frac{3}{4}u_n^2 - 2u_n + 3 \end{cases}$

1. Étudier la fonction f associée.
2. Étudier le signe de $g : x \mapsto f(x) - x$.
3. Calculer les limites éventuelles de la suite (u) .
4. On suppose que $u_0 > 2$.
 - (a) Montrer que la suite est bien définie et que pour tout $n \in \mathbb{N} : u_n > 2$.
 - (b) Étudier la monotonie de la suite (u) .
 - (c) Étudier le comportement à l'infini de la suite (u) .
5. On suppose que $u_0 \in \left] \frac{2}{3}, 2 \right[$.
 - (a) Montrer que la suite est bien définie et que pour tout $n \in \mathbb{N} : u_n \in \left] \frac{2}{3}, 2 \right[$.
 - (b) Étudier la monotonie de la suite (u) .
 - (c) Étudier le comportement à l'infini de la suite (u) .



Exercice 16 : Étudier la suite (u) définie par $\begin{cases} u_0 = 0 \\ u_{n+1} = \frac{(1 + u_n)^2}{4} \end{cases}$.

 **Exercice 17** : On définit deux suites $(u_n)_{n \in \mathbb{N}^*}$ et $(v_n)_{n \in \mathbb{N}^*}$ par

$$u_1 = 1 \quad v_1 = 12 \quad \forall n \in \mathbb{N}^*, \quad u_{n+1} = \frac{u_n + 2v_n}{3} \quad v_{n+1} = \frac{u_n + 3v_n}{4}.$$

1. On pose, pour tout $n \in \mathbb{N}^*$, $w_n = v_n - u_n$. Donner l'expression de $(w_n)_{n \in \mathbb{N}^*}$.
2. Montrer que $(u_n)_{n \in \mathbb{N}^*}$ et $(v_n)_{n \in \mathbb{N}^*}$ sont adjacentes.
3. On pose pour tout $n \in \mathbb{N}^*$, $t_n = 3u_n + 8v_n$.
Donner l'expression de $(t_n)_{n \in \mathbb{N}^*}$ et en déduire la limite de $(u_n)_{n \in \mathbb{N}^*}$ et $(v_n)_{n \in \mathbb{N}^*}$.

Suites implicites


 **Exercice 18** :

1. Montrer que, pour tout $n \in \mathbb{N}$, l'équation d'inconnue $x \in \mathbb{R}$

$$x^n + x - 1 = 0$$


admet une unique solution dans \mathbb{R}^+ notée x_n .


2. Montrer que la suite $(x_n)_{n \in \mathbb{N}}$ est majorée par 1 et minorée par 0.
3. Étudier la monotonie de la suite.
4. Étudier la convergence de la suite.
5. Montrer qu'il est impossible que la suite converge vers une limite $l < 1$.
6. Conclure que $\lim_{n \rightarrow +\infty} x_n = 1$.

 **Exercice 19** : Pour tout $n \in \mathbb{N}^*$, on définit la fonction f_n sur \mathbb{R} par $f_n(x) = nx^3 + n^2x - 2$.

1. Soit $n \in \mathbb{N}^*$. Montrer que l'équation $f_n(x) = 0$ admet dans \mathbb{R} une unique solution. On notera a_n cette solution.
2. Prouver que la suite $(a_n)_{n \in \mathbb{N}^*}$ est positive, décroissante.
3. Étudier la convergence de la suite $(a_n)_{n \in \mathbb{N}^*}$.

Divers

 **Exercice 20** : Soit (u) une suite strictement positive telle que : $\lim_{n \rightarrow +\infty} \frac{u_{n+1}}{u_n} = 2$. Montrer que la suite (u) tend vers $+\infty$.

 **Exercice 21** : Les affirmations suivantes sont-elles vraies ou fausses? On justifiera les réponses par une preuve ou un contre-exemple :

1. Si (u) est une suite telle que $(u_n^2)_{n \in \mathbb{N}}$ converge. Alors la suite (u) converge.
2. On suppose de plus que la suite (u) est à termes positifs. Alors la suite (u) converge.
3. Soit $(a_n)_{n \in \mathbb{N}}$ une suite bornée et $(\varepsilon_n)_{n \in \mathbb{N}}$ une suite convergeant vers 0. Alors la suite (u) converge vers 0 avec pour tout $n \in \mathbb{N}$: $u_n = a_n \varepsilon_n$.
4. Si la suite (u) converge alors $\lim_{n \rightarrow +\infty} (u_{n+1} - u_n) = 0$.
5. Si $\lim_{n \rightarrow +\infty} (u_{n+1} - u_n) = 0$ alors la suite (u) converge.
6. Si $u_n \underset{+\infty}{\sim} v_n$ alors $\lim_{n \rightarrow +\infty} (u_n - v_n) = 0$.
7. Si $\lim_{n \rightarrow +\infty} (u_n - v_n) = 0$ alors $u_n \underset{+\infty}{\sim} v_n$.
8. Si (u) et (v) convergent et si pour tout $n \in \mathbb{N}$: $u_n \leq w_n \leq v_n$ alors $(w_n)_{n \in \mathbb{N}}$ converge.
9. Si (u) est une suite de réels strictement positifs et tend vers 0, alors (u) est décroissante à partir d'un certain rang.